



ورقة عمل رقم (2) / الأجزاء المتناسبة في المثلثات

الاسم:	المادة:	الرياضيات
الصف:	التاريخ:	2 / 2026



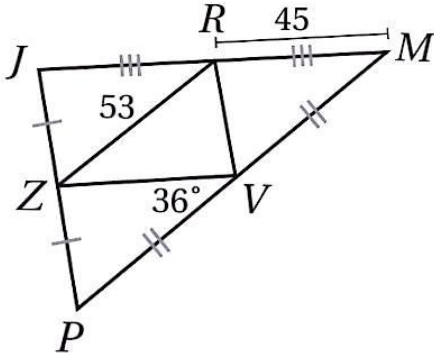
الهدف : تعرف الأجزاء المتناسبة في المثلث واستعمالها لإيجاد قياسات مجهولة

السؤال الأول : أستعمل المعلومات المعطاة في الشكل المجاور لإيجاد كل مما يأتي :

ZV -1

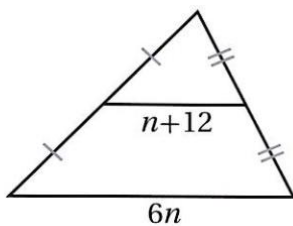
PM -2

3- قياس الزاوية RZV

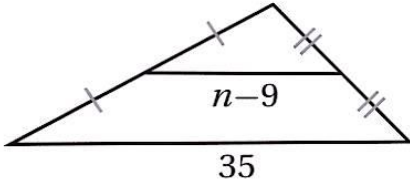


السؤال الثاني : أجد قيمة n في كل مما يأتي :

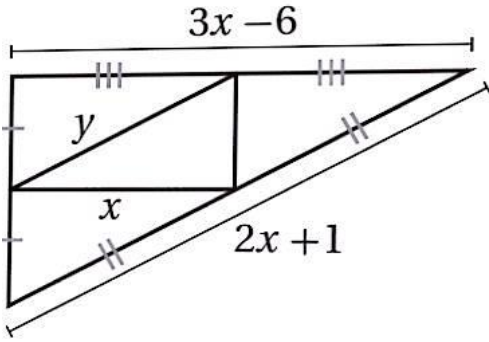
-1



-2



السؤال الثالث : أستعمل المعلومات المعطاة في الشكل الآتي لاجاد قيمة كل من X و Y :



أنتهت الورقة

قسم الرياضيات