

ما هو شعورك اليوم

عنوان الدرس

ضرب الأعداد

العشرية

اليوم: الخميس  
التاريخ: 2023-10-16

تذكرة كبيرة

$$\begin{array}{r} 5 \\ 67 \\ \times 8 \\ \hline 536 \end{array}$$

$$\begin{array}{r} 56 \\ \times 19 \\ \hline 504 \\ + 560 \\ \hline 1064 \end{array}$$

$$3.51 \times 100 = 351$$



في الضرب نترك الفاصلة لليمين  
بحسب عدد الأصفار

ما هو شعورك اليوم

# عنوان الدرس تدريب الأعداد

اليوم: الخميس  
التاريخ: 27-10-16

## العشرية

$$857 \times 10 = 8570$$

\* تدريب الأعداد العشرية  
① ①

7.54	منزلة عشرية
x 3.2	+ منزلة واحدة
1508	ألا 3 منازل
22620	

لا يوجد في المجموع

عشرية صن 24.128 قواميل

اليمين (مقطوع بنج) الرجاء للاهتمام بتدريب المنازل

### الخطوات:

1) تدريب العددين بغض

النظر عن القواميل

2) نضع الفاصلة في



ما هو شعورك اليوم

عنوان الدرس

تجريب الأعداد

اليوم: الخميس  
التاريخ: 2024-10-16

العشرية

النتائج بحسب مجموع المنازل

العشرية في العددين المنزولين

أدقق من فهمي منة 72

$$\begin{array}{r} \textcircled{5} \quad \textcircled{5} \\ \textcircled{5} \quad 3.9 \\ \quad \quad 6 \times \end{array}$$


23.4

$$\textcircled{7} \quad 0.007 \times 6 = 0.042$$

$$\begin{array}{r} \textcircled{1} \\ \textcircled{6} \quad 6.02 \quad \text{صنزلين} \\ \times \quad 0.8 \quad \text{صنرلة} \end{array}$$

4.816

3 منازل



ما هو شعورك اليوم

# عنوان الدرس تدريب الأعداد

اليوم:  
التاريخ:

## العشرية

$$\begin{array}{r} 4.34 \times 2.25 \\ \hline 21700 \\ 43400 + \\ \hline 86800 \\ 9.3320 \end{array}$$

$$\begin{array}{r} 4.34 \times 2.15 \\ \hline 2170 \\ 4340 \\ \hline + 86800 \\ \hline 9.3310 \end{array}$$

أهم استراتيجيات  
ترتيب المتازل  
والفرز  
والترتيب  
سوف نتعلم الحاسبة  
عليها في الامتحان

استعد للامتحان

ما هو شعورك اليوم

عنوان الدرس

تربيع الكسور

العشرية

اليوم: الثلاثاء  
التاريخ: 28-10-2023

أتحقق من فهمي من خلال

3)  $3.2 \times 70$

حركة الفاصلة  $3.2 \times 7 \times 10$

$32 \times 7$

$224$

وراحت

4)  $0.012 \times 400$

$0.012 \times 4 \times 100$

كُتبت

ما هو شعورك اليوم

# عنوان الدرس

تدريب الكسور

العشرية

$$1.2 \times 4$$

$$4.8$$

اليوم: الثلاثاء  
التاريخ: 28-10-2025

أتحقق من فهمي منحة 74

جد قيمة  $2000 \times x$

عندما  $x = 5013$

$2000 \times x$

$$2000 \times 5.013$$

$$2 \times 5013$$

المدرسة لتتعرف طريقك على مهاراتك وقدراتك

ما هو شعورك اليوم

عنوان الدرس  
تجريب الكسور

اليوم: الثلاثاء  
التاريخ: 28-10-2024

العشرية

10026

أدقق من فهمي بمفدة 75

$$1.2L \times 2.3$$

$$\begin{array}{r} 2.3 \times \\ 1.2 \\ \hline 046 + \\ 230 \\ \hline \end{array}$$

الجمع بدون

$$2.76$$

فأجابه

دورق وعاء

في المختبر



سعدت جداً

ما هو شعورك اليوم

عنوان الدرس  
تدريب الأعداد

اليوم: الأربعاء  
التاريخ: 2020-10-29

العشرية

أدرب وأحل المسائل مفيدة 75+76

$$\textcircled{1} 2.21 \times 3 = 6.63$$

$$\textcircled{2} 0.006 \times 6 = 0.036$$


3 منازل عشرية ثلاث منازل عشرية

$$\textcircled{3} \begin{array}{r} 23.1 \\ \times 0.94 \\ \hline \end{array}$$

منزلان عشرية منزلان

$$\begin{array}{r} 924 \\ + 20790 \\ \hline \end{array}$$

$$21.714 \rightarrow 3 \text{ منازل عشرية}$$





ما هو شعورك اليوم

# عنوان الدرس تدريب الأعداد العشرية

اليوم: الأربعاء  
التاريخ: 2023-10-29

$$⑤ 6.5 \times 40$$

$$② 65 \times 4$$

$$260$$

تذكير:  
هذه الطريقة  
يحتل المسافة (اليمين)  
و يسرع

$$⑥ x = 4.02$$

$$4x$$

$$4 \times x$$

$$4 \times 4.02$$

$$16.08$$

انطلق



عنوان الدرس :-

مربب الأعداد

اليوم: الأربعاء  
التاريخ: 2025-10-29

العشرية

26.08

(19) اكتشاف الخطأ :-

منز لتين  $\rightarrow$  5.26<sup>①</sup>  
منز لة  $\rightarrow$  3.3.4<sup>②</sup>  
يوجد فيها خطأ  
2104 +  
15780  
⊗ 178.84

يجب  
3 منازل  
من اليمين

الخطأ :- هو مكان الفاصلة

~~الصح :- وضع الفاصلة بعد (3) منازل~~

من اليمين

✓ 17.884



ما هو شعورك اليوم

# عنوان الدرس :- قسمة الأعداد العشرية

اليوم: الخميس  
التاريخ: 2025-10-30

تذكير:-

1) عند قسمة الأعداد العشرية

على (10, 100, 1000)

نحرك الفاصلة نحو اليسار بحسب

عدد الأصفار  
30/10

عدد الأصفار

\* أي عدد ليس له فاصلة فنضع

له فاصلة على يمينه

2) القسمة المويلة :-

كتاب التمارين صفحة 30

تذكر..  
أنت مميز



ما هو شعورك اليوم

# عنوان الدرس

قسمة الأعداد

اليوم: الخميس  
التاريخ: 20-10-2020

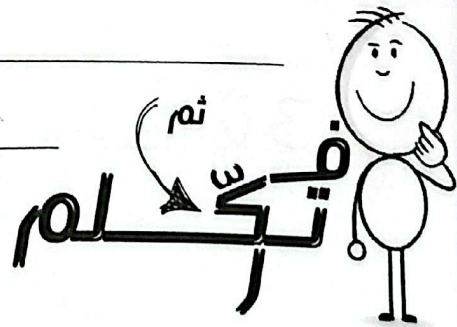
العشرية

كتاب القارين ص 30

$$\begin{array}{r} 15 \cdot \times 14 \\ 3 \overline{) 42} \\ \underline{3} \phantom{0} \\ 12 \\ \underline{12} \\ 00 \end{array}$$

$$\begin{array}{r} 16 \cdot \times 24 \\ 9 \overline{) 216} \\ \underline{18} \phantom{0} \\ 36 \\ \underline{36} \\ 00 \end{array}$$

$$\begin{array}{r} 17 \cdot \times 19 \\ 32 \overline{) 608} \\ \underline{32} \phantom{0} \\ 288 \\ \underline{288} \\ 00 \end{array}$$





ما هو

شعورك اليوم

## عنوان الدرس

قسمة الكسور

العشرية

اليوم: السبت  
التاريخ: 1-11-2021

مثال: - جد ناتج القسمة:-

$$\begin{array}{r} \textcircled{1} \quad \times 2.5 \\ 5 \overline{) 12.5} \\ \underline{10} \phantom{0} \\ 25 \phantom{0} \\ \underline{25} \\ 00 \end{array}$$

$$\begin{array}{r} \textcircled{2} \quad \times 8.79 \\ 4 \overline{) 35.16} \\ \underline{32} \phantom{0} \\ 31 \phantom{0} \\ \underline{28} \\ 36 \phantom{0} \\ \underline{36} \\ 00 \end{array}$$



# عنوان الدرس

قسمة الكسور

العشرية

اليوم: السبت  
التاريخ: 25-11-1

ما هو شعورنا

حزنية أم فرحان

3)  $\times 15.5$   
 $6 \overline{) 93.00}$   
 $6 \downarrow$   
 $33$   
 $30$   
 $30$   
 $30$   
 $00$

القسمة

لا حزنة :- عندما يكون هناك

باق مانرفع فاصلة وننزل منفر

واحد كل مرة.



ما هو شعورك اليوم

# عنوان الدرس

## قسمة الكسور

اليوم: الثلاثاء  
التاريخ: 20-11-2021

### العشرية

اتدقق من فهمي مرعبة 80

④  $\times 1.975$   
 $4 \overline{) 790000}$

4  
39  
36  
330  
228  
20  
20  
00

اشكر  
على ترتيب المنهاج  
في القسمة  
لانه عند الاصطدام  
بالترتيب  
تكونت القسمة  
مانظمة لخصو اليمين



⑤  $\times 14.5$

$4 \overline{) 58000} \times$   
4  
18  
16  
020  
000

ما هو شعورك اليوم

# عنوان الدرس

## قسمة الكسور العشرية

اليوم: الثلاثاء  
التاريخ: 2025-11-14

$$b) \times 0.71$$

$$6 \overline{) 0.426}$$

$$\underline{42}$$

$$006$$

$$\underline{6}$$

$$0$$

(م. عليه)

مقسوم عليه

مقسوم

عدد عشري

\* قسمة عدد عشري على عدد عشري

مثال: جد ناتج

مقسوم

م. عليه

$$2 \overline{) 22.5}$$

$$- 10.5$$

$$\boxed{\times 10}$$

$$\boxed{\times 10}$$

المقسوم عليه ما يجب

الفواصل

$$22.5 \div 15$$

التركيز والاصرار هما مفتاح النجاح





ما هو شعورك اليوم

عنوان الدرس :-

قسمة الكسور

اليوم: الثلاثاء  
التاريخ: 2025-11-19



سبعة العشرية

الظواهر :-

1) نترك الفاصلة في المقسوم

عليه بحيث يصبح عدد المخرج نترك


اقواسيل لليمين من خلال الضرب

في 10 - 100 - 1000 حسب المنازل

العشرية

2) نضرب المقسوم والمقسوم عليه


بنفس العدد





عنوان الدرس

قسمة الكسور



العشرية

3) نقسم كما في السابق

$$\begin{array}{r} 1.5 \\ 15 \overline{) 22.5} \\ \underline{15} \phantom{.5} \\ 7.5 \\ \underline{7.5} \\ 0.0 \end{array}$$



استعد للغد



ما هو شعورك اليوم

عنوان الدرس

قسمة الكسور

اليوم: الأربعاء  
التاريخ: 2025-11-15

العشرية

تحقق من فهمي هبة 82

④  $24.7 \div 1.3$

مقسوم  $24.7$  :  $13$  م.ع.م  
لا ون  
قابلة

مقسوم م.ع.م

$$\begin{array}{r} \times 1.9 \\ 13 \overline{) 24.7} \\ \underline{13} \phantom{0} \\ 117 \\ \underline{117} \\ 000 \end{array}$$

⑤  $65 \div 0.5 \xrightarrow{\times 10} 650 \div 5$

مُتَعَبِدًا

ما هو شعورك اليوم

# عنوان الدرس :- قسمة الكسور العشرية

اليوم: الأربعاء  
التاريخ: 25-11-15

$$650 \div 5$$

$$\begin{array}{r} 130 \\ 5 \overline{) 650} \\ \underline{5} \phantom{0} \\ 15 \\ \underline{15} \\ 00 \end{array}$$

$$\textcircled{00} \quad \overset{\times 10}{0.6} \div \overset{\times 10}{1.2}$$

$$0.6 \div 12$$

$$\begin{array}{r} 0.05 \\ 12 \overline{) 0.6000} \\ \underline{0} \phantom{000} \\ 60 \\ \underline{60} \\ 000 \end{array}$$



مهاراتك

لتتعرف

المدرسة

وقدراتك

على

طريقك



ما هو شعورك اليوم

عنوان الدرس :-

مقسمة الكسور العشرية

اليوم: الأربعاء  
التاريخ: 2022-11-15

النتيجة = م. عليه : مقسوم

التحقق

المقسوم = م. عليه  $\times$  الناتج  $\leftarrow$  الباقي = مبر

أنتدقق من فهمي منقذة 82

العرض الثالث: 12 عليه 10.95 دينار

الحل: نجد ثمن الزجاجة الواحدة

$\times 0.9125$

$12 \overline{) 10.95000}$

10.8

15

22

30

24

0060

س' بطوناً



ما هو شعورك اليوم

عنوان الدرس

قسمة الكسور

اليوم: الخميس  
التاريخ: 2023-11-16



العشرية

أنترب وأحل

المسائل 83

$$\textcircled{1} 7.2 \div 9 = 0.8$$

$$\textcircled{2} 0.72 \div 9 = 0.08$$

$$\textcircled{3} 0.072 \div 9 = 0.008$$

$$\textcircled{4} \times 1.53$$

$$\begin{array}{r} 4 \overline{) 612} \\ \underline{4} \phantom{0} \phantom{0} \\ 21 \phantom{0} \\ \underline{20} \phantom{0} \\ 12 \phantom{0} \\ \underline{12} \\ 00 \end{array}$$

$$-4 \downarrow$$

$$21$$


$$-20 \downarrow$$

$$12$$

$$\underline{12}$$

$$00$$

لتنجح في حياتك



الدرس

ما هو شعورك اليوم

# عنوان الدرس قسمة الكسور العشرية

اليوم: الخميس  
التاريخ: 2025-11-16

$$\begin{array}{r} 6 \quad \times 9.8 \\ \hline 5 \overline{) 49.0} \\ \underline{45} \phantom{0} \\ 40 \\ \underline{40} \\ 00 \end{array}$$

$$8 \quad 1.76 \div 0.02$$

$$176 \div 2 =$$

$$\begin{array}{r} \phantom{0} \times 88 \\ 2 \overline{) 176} \\ \underline{16} \phantom{0} \\ 16 \\ \underline{16} \\ 00 \end{array}$$

# انطلق



شعورك اليوم يا صبي

عنوان الدرس

قسمة الكسور

اليوم الخميس  
التاريخ 20-11-16

العشرية

إيجاد قيمة (x) التي تحقق المعادلة  
حل المعادلة (مفحة 84)

عكس  
القسمة

$$\frac{2.7x - 3.24}{2.7} = \frac{19}{2.7}$$

$$x = \frac{3.24 \times 10}{2.7 \times 10}$$
$$x = 32.4 \div 27$$

$$\begin{array}{r} \times 1.2 \\ 27 \overline{) 32.4} \\ \underline{27} \phantom{0} \\ 54 \\ \underline{54} \\ 00 \end{array}$$

$$x = 1.2$$





ما هو شعورك اليوم

# عنوان الدرس :- قسمة الكسور

اليوم: الخميس  
التاريخ: 25-11-2016

## العشرية

$$\boxed{20} \div 4.3 = 0.4$$

$\times 4.3 \dots \times 4.3$


عكس  
القسمة  
ضرب  
الطرفين

①

$$x = 4.3 \times 0.4$$
$$= 1.72$$

أضرب  
6 / 11

$$\boxed{x = 17.2}$$



ما هو شعورك اليوم

# عنوان الدرس :- القياس

اليوم: الاثنين  
التاريخ: 27-11-10

\* يجب توحيد وحدات القياس

قبل إجراء العمليات الحسابية على

القياسات، العمل في الوحدة المشتركة

مثل: جد ناتج:

$$3 \text{ m} \times 200 \text{ cm} = \boxed{6} \text{ m}^2$$

$\downarrow \div 100$

$$3 \text{ m} \times 2 \text{ m}$$

تنبيه:

عند ضرب وحدات القياس تصبح

الناتج وحدة مربعة

أتحقق من فهمي صفحة 85

تذكر..  
أنت مميز



ما هو شعورك اليوم

## عنوان الدرس

اليوم:  
التاريخ:

$$\textcircled{2} 5.7 \text{ m} \times 500 \text{ cm} = 28.5 \text{ m}^2$$

$$5.7 \text{ m} \times 5 \text{ m}$$

لن يجب توحيد الوحدات  
مبداً للحل

$$\textcircled{3} 1.3 \text{ cm} \times 620 \text{ mm} = 80.6 \text{ cm}^2$$

$$1.3 \text{ cm} \times 62 \text{ cm}$$

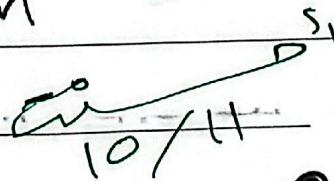
\* تنبيه :-

في مسائل القسمة بعد توحيد

وحدات القياس نختار الوحدة

مع بعضها فيصبح الناتج بدون وحدة

$$\frac{10 \text{ cm}}{5 \text{ cm}} = 2$$



فكر في

ما هو شعورك اليوم

عنوان الدرس  
القياس

اليوم الثلاثاء  
التاريخ 11-11-2023

أدقق من فهمي منصفه 86

$$\textcircled{2} 65 \text{ L} \div 400 \text{ ml}$$

$$6500 \text{ ml} \div 400 \text{ ml}$$

$$\begin{array}{r} \times 16.25 \\ 4 \overline{) 65.00} \end{array}$$

$$\begin{array}{r} 4 \downarrow \\ 25 \\ \hline 24 \downarrow \\ 10 \\ - 8 \downarrow \\ 20 \\ \hline 20 \\ \hline 00 \end{array}$$

$$65 \div 4$$

$$16.25$$

تلعب غداً

ما هو شعورك اليوم

عنوان الدرس

اليوم:  
التاريخ:

$$③ 3.6m \div 2.4cm$$

$\times 100$

$$360cm \div 2.4cm$$

$$\begin{array}{r} \textcircled{1} \times 150 \\ 24 \overline{) 3600} \\ \underline{24} \phantom{0} \\ 120 \phantom{0} \\ \underline{120} \\ 000 \end{array}$$
$$3600 \div 24 = 150$$

أتحقق من فهمي منحة 87

المعطيات: مسجادة مستطيلة

$$55m : (L)$$



ما هو شعورك اليوم

عنوان الدرس

اليوم:  
التاريخ:

$$W = 4.5 \text{ m} \leftarrow \frac{100}{150 \text{ cm}}$$

المطلوب: مساحة السجادة (A)

بالمتر المربع <sup>m<sup>2</sup></sup>؟

الحل: ① القانون  $A = L \times W$

$$A = 5.5 \times 4.5$$

③ الجواب + الوحدة

$$A = 24.75 \text{ m}^2$$



ما هو شعورك اليوم

# عنوان الدرس

واجب بيتي

اليوم: الثلاثاء  
التاريخ: 25-11-11

أنترب وأحل المسائل ص 88

$$\textcircled{1} 4.5 \text{ kg} \div 2000 \text{ g} = \boxed{2.25} \text{ g}$$

$$4.5 \text{ kg} \div 2 \text{ kg} \times 2.25$$

$$2 \overline{) 4500}$$

$$40 \downarrow$$

$$50$$

$$40 \downarrow$$

$$100$$

$$100$$

$$000$$

$$\textcircled{2} 1.2 \text{ m} \times 50 \text{ cm} = \boxed{100}$$

لجيب التزام بوحدة الجواب

نغير المختلفة

$$\textcircled{2} 1.2 \text{ (m)} \times 50 \text{ (cm)} = \boxed{0.60} \text{ (m}^2\text{)}$$

$$\downarrow \div 100$$

$$1.2 \text{ m} \times 0.50 \text{ m} = 0.60 \text{ m}^2$$


$$1.2 \times$$

$$0.5$$

$$60 +$$

$$000$$

$$0.60$$



ما هو شعورك اليوم

# عنوان الدرس

اليوم:  
التاريخ:

$$A = L \times W$$

$$A = 1.35m \times 40cm$$

$$\textcircled{7} 1.35(m) \times 0.4(m) = 0.540(m^2)$$

$$A = 0.54 m^2$$

$$\begin{array}{r}
 \textcircled{1} \quad 1.35 \\
 \textcircled{2} \quad 0.4 \times \\
 \hline
 0.540
 \end{array}$$

8 \* العصير = برتقال + فراولة

$$\begin{array}{r}
 1.20 \\
 + 0.27 \\
 \hline
 1.47
 \end{array}$$

1.2L + 270 ml =  L خطوة 1

$$1.2(L) + 0.27(L) = 1.47(L)$$

$$\begin{array}{r}
 0.21 \\
 7 \overline{) 1.47} \\
 \underline{0} \\
 14 \\
 \underline{14} \\
 0
 \end{array}$$

1.47(L) ÷ 7 = 0.21(L) خطوة 2



# استغلَّف

