



ورقة عمل رقم ( 1 ) / الدرس الاول دورالحركات الارضية البطيئة

الاسم:		المادة:	الجغرافيا
الصف:	الثاني الثانوي	التاريخ:	2025/8/

\* تدريبات الدرس الاول : دور الحركات الارضية البطيئة في تشكيل سطح الارض

السؤال الاول : املا الفراغ بالمعلومة المناسبة :

- 1-لا تعد الكرة الارضية مستقرة تماما لانها .....
- 2- الزلازل والبراكين من العوامل ..... المؤثرة في تشكيل سطح الارض .
- 3- تأثير المواد الملتهبة الموجودة في باطن الارض هو .....
- 4- من العوامل الخارجية المؤثرة في تشكيل سطح الارض .....
- 5- سبب الحركات الارضية البطيئة هو .....
- 6- تستجيب صخور القشرة الارضية لقوى الضغط الناتجة عن تصادم الصفائح من خلال : .....
- 7- تقسم الالتواءات ( الطيات ) الى نوعين هما : ..... و .....
- 8- تتكون كل طية من أ - ..... ب- ..... ج- .....
- 9- سلسلة الجبال التي تقع بين نيبال والهند هي .....
- 10- تقع جبال الالب في قارة .....
- 11- الهضبة التي توجد في تركيا هي .....
- 12- أعلى منطقة في العالم هي ..... يصل ارتفاعها الى حوالي .....
- 13- يحدث عند تعرض الصخور للضغط يفوق قدرتها على التحمل هو .....

14- من التضاريس الناتجة عن الكسر / الصدع .....

15- تقع بحيرة بايكال في .....

16- الفرق بين الالتواءات والانكسارات هو : .....

17- أخفض بقعة على سطح الارض ..... بمستوى .....

18- الصدع الذي يعرف بصدع الشد هو .....

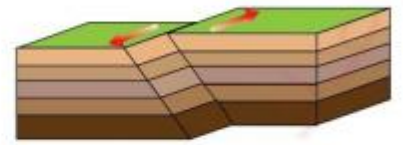
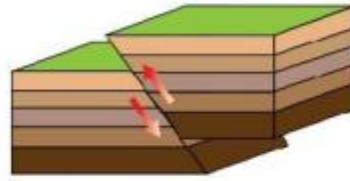
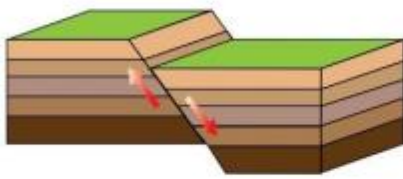
19- الصدع الذي يحدث بسبب ارتفاع الجدار العلوي فوق السفلي هو .....

20 - الصدع الذي يتميز بحركة افقية للكتلتين الصخريتين المتصدعتين ولا يحدث تغيير في مستوى ارتفاعهما هو .....

21- من الامثلة على الصدوع السلمية : .....

22- تحدث الصدوع الاخدودية نتيجة : .....

السؤال الثاني ( أ ) : أمامك مجموعة من الصور لأنواع الصدوع / الانكسارات . اكتب اسم الصدع المناسب اسفل كل صورة ؟



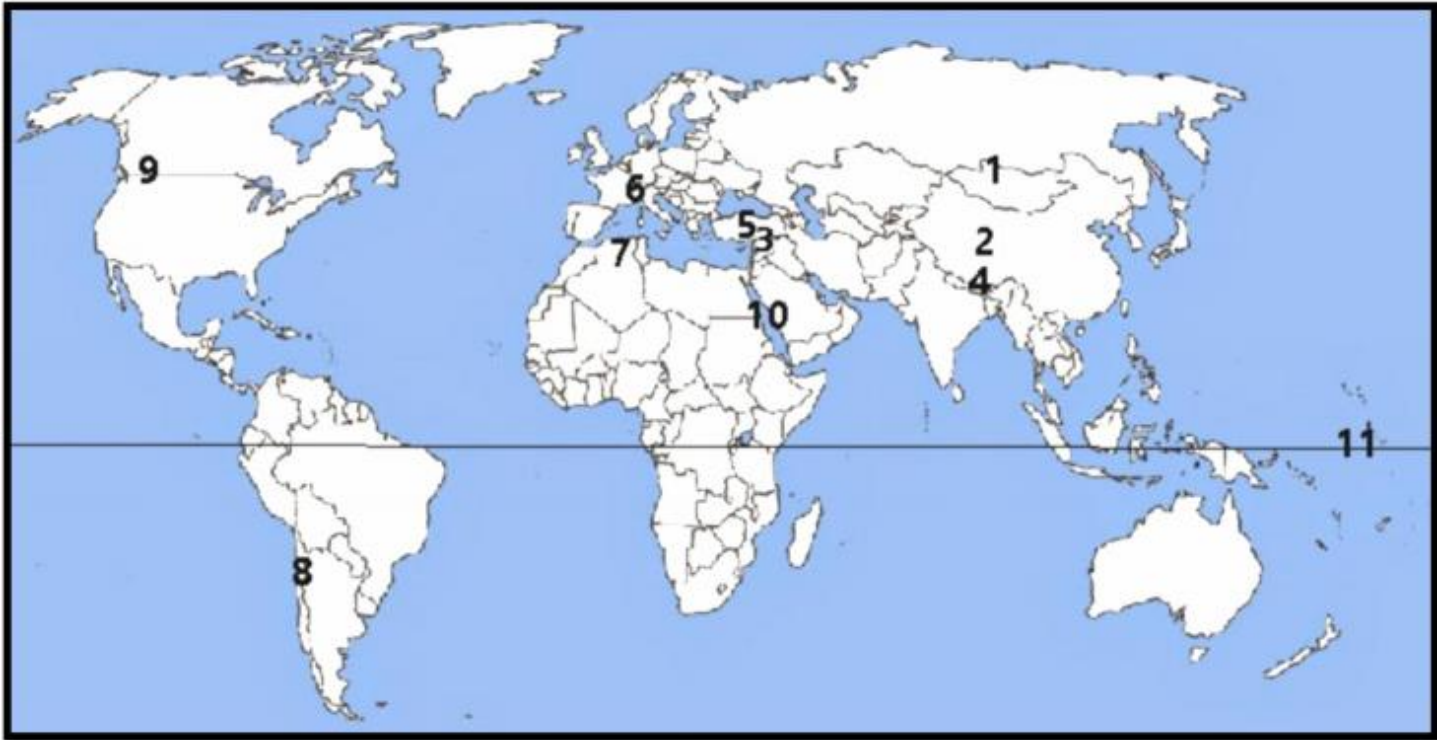
ب) لديك الشكل المجاور حدد مايلي:

- 1-الصفحة العربية:
- 2-الصفحة الاوراسية:
- 3-الصفحة الافريقية:
- 4-الصفحة الهندية:



السؤال الثالث : أمامك خارطة العالم الطبيعية حدد ما تشير اليه الارقام الاتية ؟

- 1- بحيرة 2- 3 هضاب 4-5-6-7-8-9 جبال 10- بحر 11 - دائرة عرض رئيسية



انتهت ورقة العمل

قسم الدراسات الاجتماعية

امنه العبادي & ليلي أبو الغنم