

ورقة عمل رقم (1) / مكونات الغلاف الصخري

الجغرافيا

المادة:

التاسع (أ + ب)

الصف:

التاريخ:

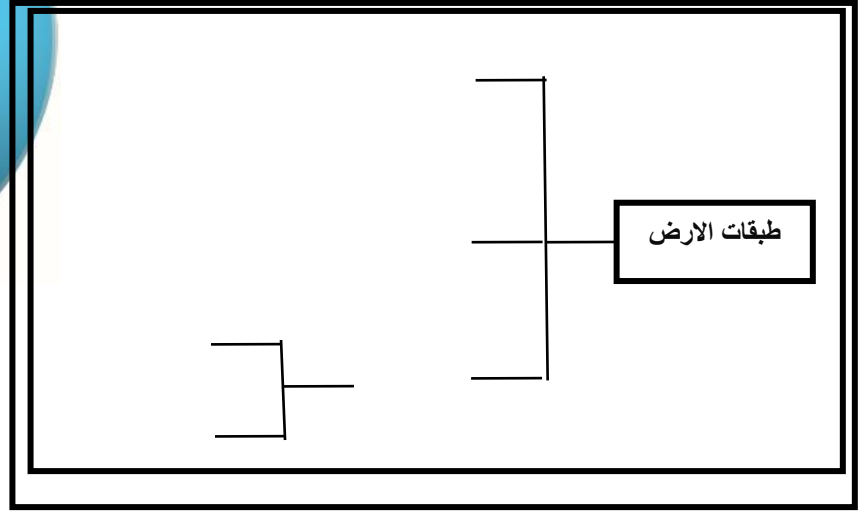
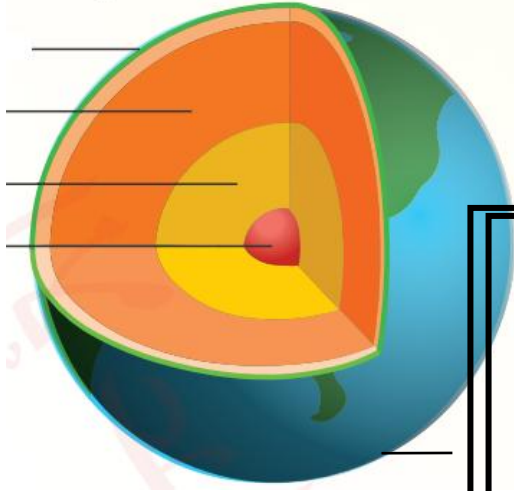
2025/ 9 /

الهدف من ورقة العمل : التعرف الى التركيب الداخلي للأرض / الهدف من الغلاف الصخري / نشأة الكرة الأرضية / أنواع حركات الصفائح

السؤال الأول: أتمل الشكل الآتي لأجيب عن الاسئلة التي تليه:

1-أحدد على الشكل مكونات طبقات الأرض؟

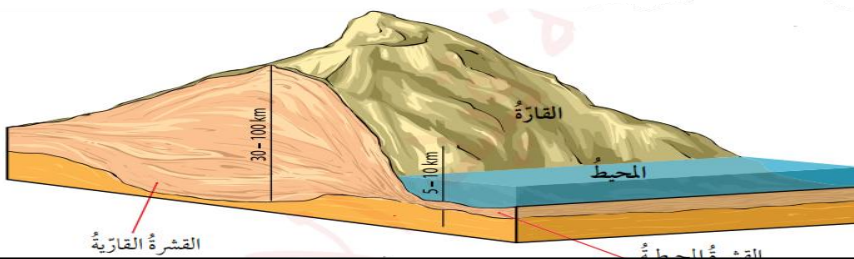
2-أكمل الشكل كما هو مطلوب :



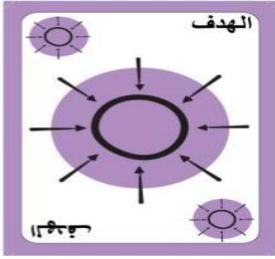
السؤال الثاني: ماهو الغلاف الصخري ؟

السؤال الثالث : أقرن بين أقسام القشرة الأرضية (القشرة المحيطية / السيماء) و (القشرة القارية (السيال) من حيث:

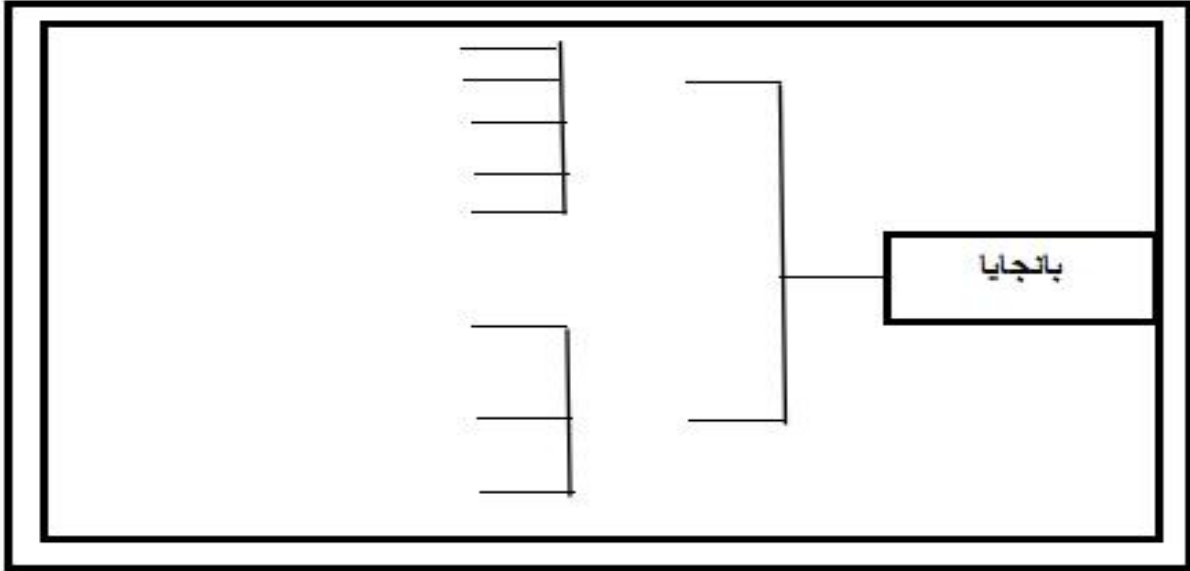
المقارنة	القشرة المحيطية	القشرة القارية
موقعها		
مكوناتها		
سمكها		



السؤال الرابع :ما الهدف من وجود الغلاف الصخري؟



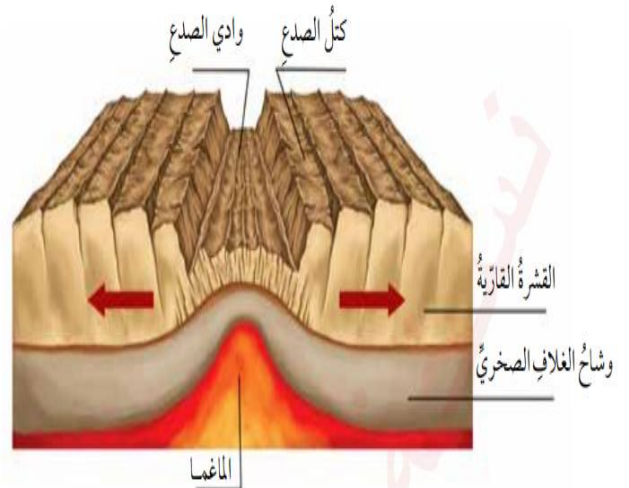
السؤال الخامس:أدون القارات التي انقسمت اليها الارض عبر(200)مليون سنة:

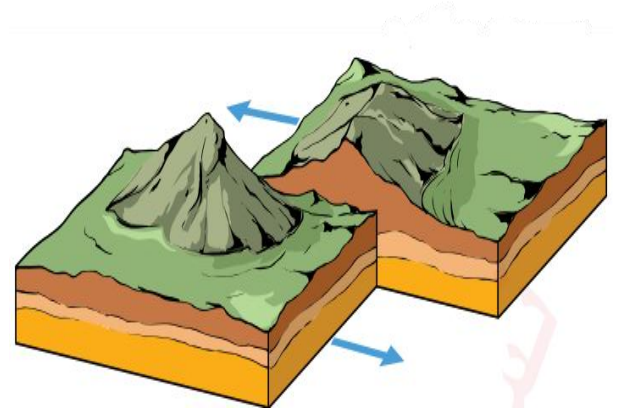
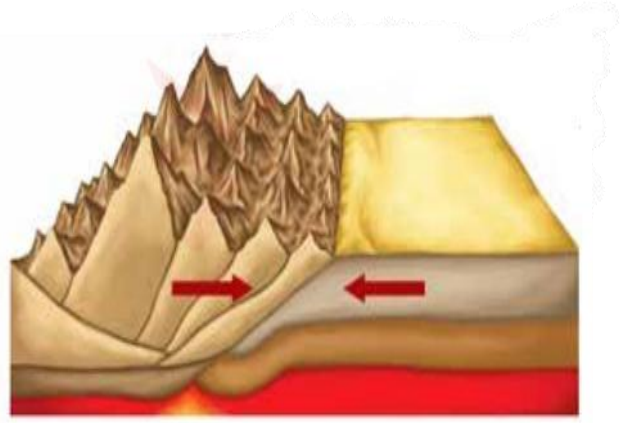


السؤال السادس:ما الفرضية التي تركز اليها نظرية الصفائح التكتونية ؟



السؤال السابع:أتأمل الاشكال التالية ثم أوضح ما يمثله كل منها :





انتهت ورقة العمل
قسم الدراسات الاجتماعية
ليلى أبو الغنم & رمز الريان