



ورقة عمل رقم (4) / تقدير المجموع والفرق

المادة: الرياضيات

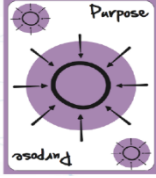
الاسم:

2025/9/

التاريخ:

الرابع الأساسي

الصف:



الهدف: تقدير المجموع والفرق

السؤال الأول : أقدر الناتج بتقريب الاعداد إلى أقرب مئة في كل مما يأتي :

$$512 + 218$$

$$9328 - 8563$$



$$19294 + 72198$$

$$43219 - 33681$$

أقدر الناتج بتقريب الاعداد إلى أقرب عشرة في كل مما يأتي :

$$214621 + 540663$$

$$845726 - 458615$$

$$23548 + 754625$$

$$186522 - 25468$$


السؤال الثاني :

تبعد عمان عن مكة المكرمة 1514 km وتبعد عن انقرة 1259 km ، أقدر المسافة التي سيقطعها الحاج من أنقرة إلى مكة المكرمة مروراً بعمان بالتقريب إلى أقرب ألف .




السؤال الثالث:

أنتج مصنع للأجهزة الإلكترونية 986574 جهازاً ؛ بيع فيها 39685 خلال النصف الأول من العام ، أقدر عدد الأجهزة المتبقية في المصنع بالتقريب إلى أقرب ألف .



السؤال الرابع:

كان أكبر حضور جماهيري في كأس العالم في عام 1950 ، إذ بلغ عدد الحضور 199854 ، بينما كان أقل حضور جماهيري في كأس العالم في عام 1934 ، إذ بلغ عدد الحضور 23235 ، أقدر الفرق بين عدد الحضور في المرتين بالتقريب إلى أقرب عشرة آلاف.



السؤال الخامس: اكتشف الخطأ : قدر محمود ويوسف مجموع العددين 4586 ، 3658 ، فكنت إجابتكما كما يأتي:

$$\text{يوسف : } 4000+4000=8000 \quad \text{محمود : } 4000+5000=9000$$



من منهما اجابته صحيحة؟ ابرر إجابتي.

