





ورقة عمل رقم ( 4 ) / مستويات التنظيم في الكائنات الحية

الاسم:	المادة:	العلوم
الصف:	التاريخ:	2025/9 / السادس

يتوقع من الطلبة الأهداف التالية:

التعرف على مستويات التنظيم في أجسام الكائنات الحية .

السؤال الاول : اكتب المصطلح المناسب في الفراغ فيما يلي:

المصطلح	التعريف
	اصغر وحدة بناء و تركيب و وظيفة في جسم الكائن الحي 
	مجموعة من الخلايا المتشابهة في التركيب و الوظيفة التي تعمل معا 
	مجموعة من الانسجة المختلفة التي تؤدي وظيفة متخصصة 
	مجموعة من الاعضاء التي تعمل معا لتؤدي وظيفة عامة 

السؤال الثاني: أ - صل بين الخلية و النسيج الذي تكونه .


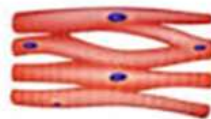
الخلية العضلية القلبية



الخلية العضلية الهيكلية



الخلية العضلية الملساء

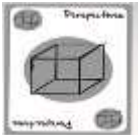


( ب ) : حدد المستوى التنظيمي الظاهر في الصورة ؟



( ج ) مما يتكون ؟

( د ) من وجهة نظرك هل تمتلك النباتات اعضاء و اجهزة ، عزز اجابتك بمثال .



السؤال الثالث : اذكر مثالا واحدا على كل مما يلي .

النسيج -----

العضو -----

الجهاز -----

السؤال الرابع :بعد دراستك الاعضاء والأجهزة في النبات أجب عما يأتي :

أ-ما وظيفة كل من الاعضاء التالية في النبات :

الجزر-----الأزهار-----

الاوراق-----الساق-----

ب-اذكر مثالا على الأجهزة في النبات -----

~♥~ good luck ~♥~

انتهت ورقة العمل

قسم العلوم

معلمنا المادة : سالي المدانات & منال العتيلات

