


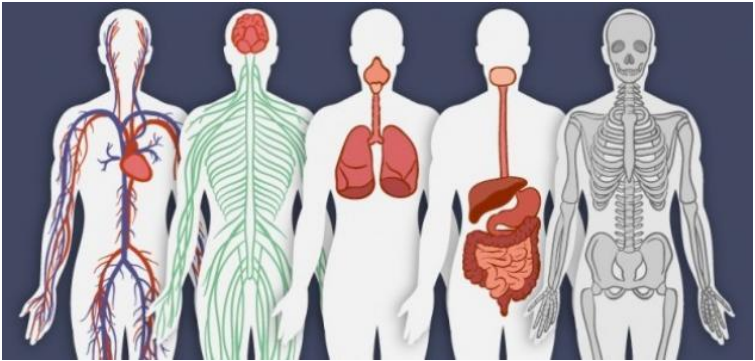


ورقة عمل رقم ( 4 ) / مستويات التنظيم في الكائنات الحية

الاسم:	المادة:	العلوم
الصف:	السادس : أ . ب	التاريخ:
		2025 / 9 /

الاهداف : ان يتعرف على مستويات التنظيم في اجسام الكائنات الحية و يميزها

السؤال الاول : اكتب المصطلح المناسب في الفراغ فيمايلي

المصطلح	التعريف
	<p>اصغر وحدة بناء و تركيب و وظيفة في جسم الكائن الحي</p> 
	<p>مجموعة من الخلايا المتشابهة في التركيب و الوظيفة التي تعمل معا</p> 
	<p>مجموعة من الانسجة المختلفة التي تؤدي وظيفة متخصصة</p> 
	<p>مجموعة من الاعضاء التي تعمل معا لتؤدي وظيفة عامة</p> 

السؤال الثاني ( أ ) : صل بين الخلية و النسيج الذي تكونه ؟

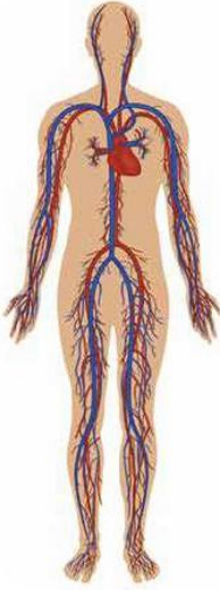
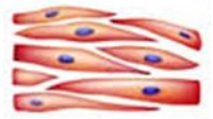
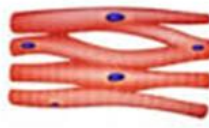

الخلية العضلية الملساء



الخلية العضلية الهيكلية



الخلية العضلية القلبية



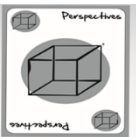
( ب ) : حدد المستوى التنظيمي الظاهر في الصورة ؟

( ج ) مما يتكون ؟

-----

(ب) من وجهة نظرك هل تمتلك النباتات اعضاء و اجهزة ؟ عزز اجابتك بمثال ؟

-----  
-----



~ good luck ~

سالي المدانات , منال العتيلات