



ورقة عمل رقم (4)

الاسم:

المادة:

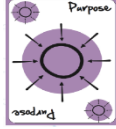
علوم

الصف:

الثاني الأساسي

التاريخ:

2025 / 10 /



الهدف يميز تغذية بعض الحيوانات - يذكر حركة بعض الحيوانات - يرتب مراحل دورة حياة الضفدع



السؤال الأول: أكمل الجمل التالية بما يناسبها:

اللحوم - الأعشاب - النباتات و الحيوانات

1- الأرنب يتغذى على

2- الأسد يتغذى على

3- الدب يتغذى على و



السؤال الثاني : أصل بين الحيوان و حركته :

تَرْحَفُ

الضفدعُ


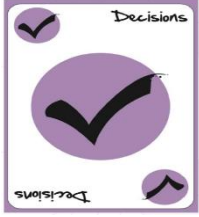
يَقْفِزُ

السَّلْحَفَةُ

يَجْرِي

الحِصَانُ

السؤال الثالث : أرتب مراحل دورة حياة الضفدع بوضع الرقم المناسب في المربع



معلمتا الصف الثاني الأساسي

