



ورقة عمل (1)

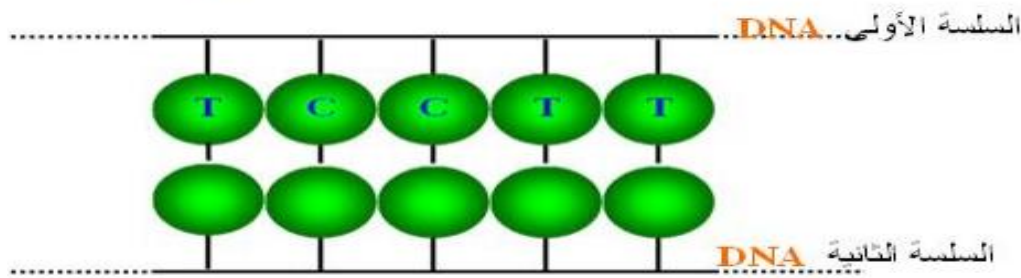
الاسم:	المادة:	علوم عامة
الصف:	الثامن (أ + ب)	التاريخ:

السؤال الاول: اكمل الجداول التالية بما هو مناسب وحسب المطلوب :

المقارنة	الانقسام المتساوي	الانقسام المنصف
نوع الخلية		
عدد الخلايا الناتجة		
عدد الكروموسومات في الخلايا الناتجة		
الاهمية		

السؤال الثاني :

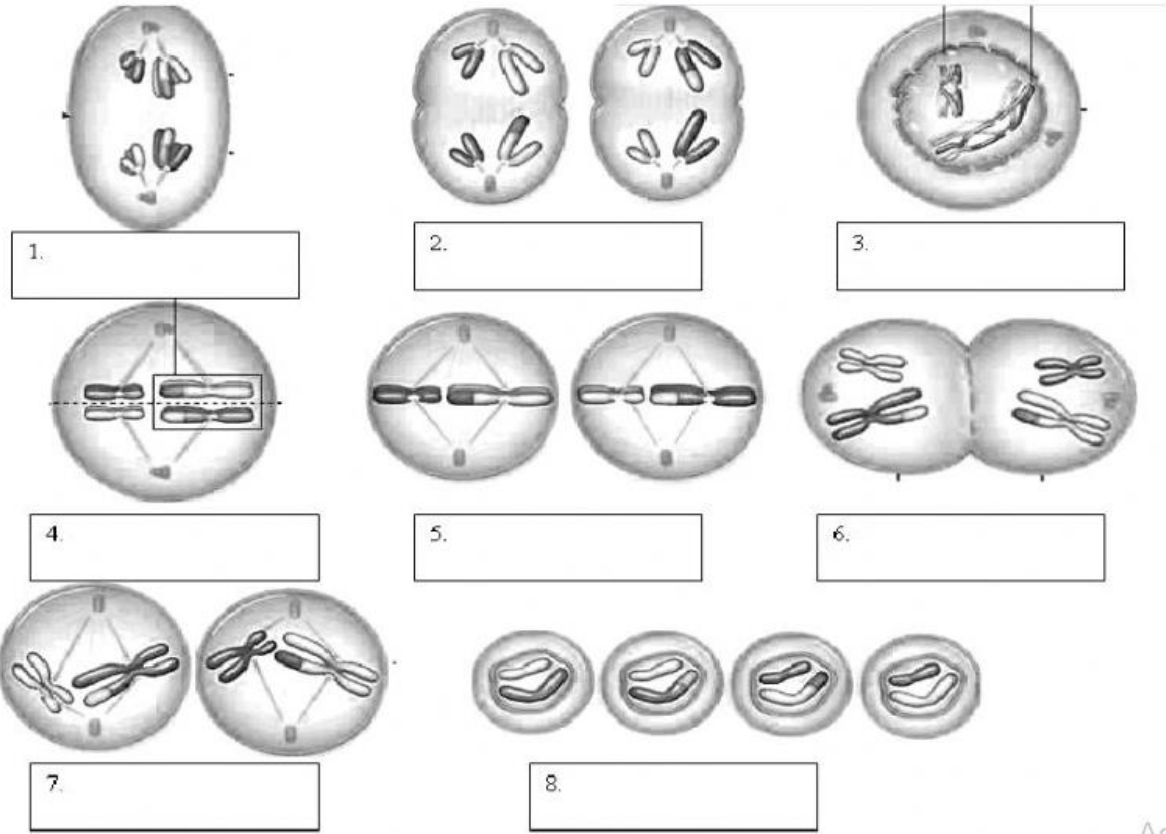
أكمل القواعد النيتروجينية المكملة لسلاسل الحموض النووية فيما يلي :



يتركب DNA من سلسلتان ملتوية بشكل حلزوني وكل سلسلة تتركب من :

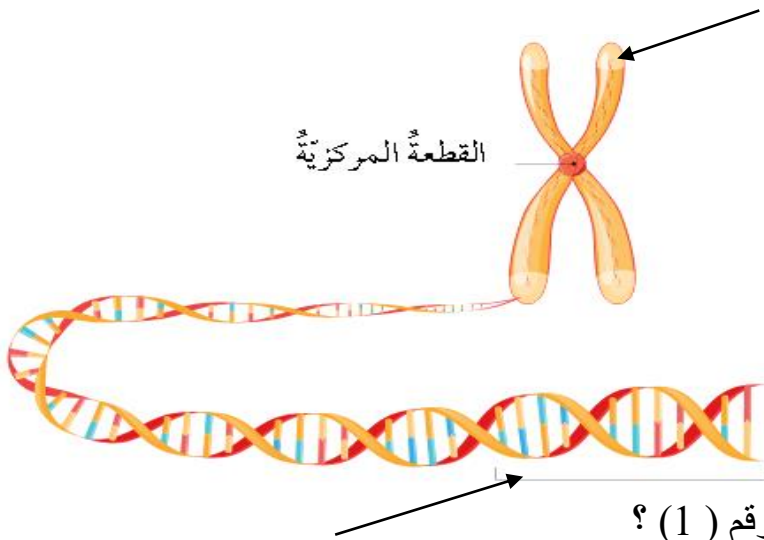
- 1
- 2
- 3

السؤال الثالث : اكتب اسم كل طور ممثل في الشكل المجاور



Activator 1

السؤال الرابع : أنظر الشكل المجاور , ثم أجب عن الأسئلة الآتية ؟



(1) ماذا يدعى التركيب الذي يحمل الرقم (1) ؟

(2) أذكر مكونات التركيب (1) ؟

(3) ماذا يدعى الجزء رقم (2) , مع ذكر أهميته ؟

معلمة المادة : هديل الرزوق

