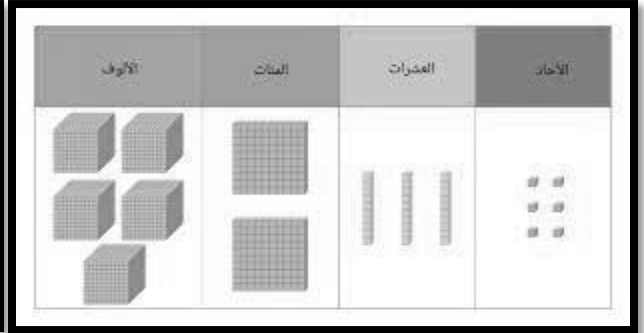
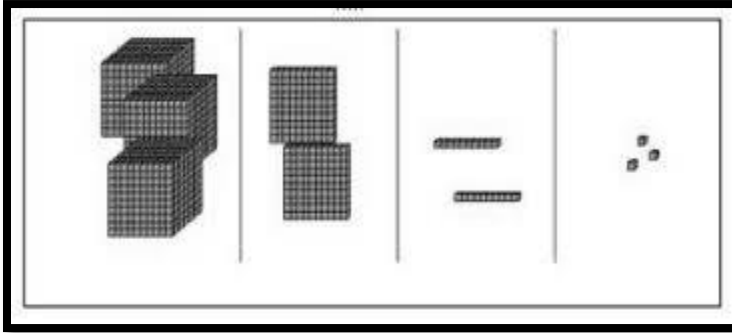


التاريخ:

ورقة عمل (1): الأعداد

الاسم: _____

السؤال الأول: أ- أكتب العدد الذي يمثله كلاً من:



السؤال الثاني: أ- أكتب القيمة المنزلية للرقم (8) داخل المربع.

1) 5899

2) 7338

3) 4380

4) 8951

ب- أكتب الأعداد التالية بالصيغة اللفظية:

1) 7642 -----

2) 5403 -----

3) 4872 -----

ج- أكتب الأعداد التالية بالصيغة التحليلية:-

1) 5923 = + + +

2) 6540 = + + +

3) 7633 = + + +

السؤال الثالث: أكتب < أو > أو = في لأكون عبارة صحيحة:

1) 7644 8933

2) 6540 6540

3) 9399 6599

4) 8741 8741

5) 7690 4322

6) 6525 654

السؤال الرابع: - أرتب الأعداد التالية تصاعدياً:

6533 , 4802 , 9433 → , ,

ب- أرتب الأعداد التالية تنازلياً:

5403 , 3621 , 7951 → , ,



* لا ننس !!! الترتيب التصاعدي: ترتيب الأعداد من الأصغر إلى الأكبر.
الترتيب التنازلي: ترتيب الأعداد من الأكبر إلى الأصغر.

السؤال الخامس: أقرب كلاً من الأعداد الآتية إلى : (لا تنس وضع سهم التقريب عند المنزلة المراد تقريبها)

أ) أقرب (10):-

1) 7663 → _____

2) 9722 → _____

ب) أقرب (100):-

1) 5407 → _____

2) 5360 → _____

ج) أقرب (1000):-

1) 4721 → _____

2) 8033 → _____

لنتذكر !!! (المنزلة التي بجانب المنزلة المراد تقريبها إذا كانت تتكون من أعداد كريمة أو بخيلة)

0,1,2,3,4

الأعداد البخيلة (لا تعط) :

5,6,7,8,9

الأعداد الكريمة (تعطي) :

السؤال السادس: أ- أعدّ تصاعديًا حسب المطلوب:

3439	3449	3459			
------	------	------	--	--	--

(بالعشرات)

5589	5689	5789			
------	------	------	--	--	--

(بالمئات)

4903	5903	6903			
------	------	------	--	--	--

(بالآلوف)

ب- أعدّ تنازليًا حسب المطلوب:

7865	7855	7845			
------	------	------	--	--	--

(بالعشرات)



9643	9543	9443			
------	------	------	--	--	--

(بالمئات)

6591	5591	4591			
------	------	------	--	--	--

(بالآلوف)

السؤال السابع: أصل الأعداد الهندية التالية للحصول على صورة الديناصور.



بالتوفيق للجميع معلمتكم : إسماء شحادة