



الصف : التاسع

نوع ورقة العمل : تدريبية

اسم الطالب :

ورقة عمل ( 3 )

مادة الرياضيات

الوحدة (2) : العلاقات والإقرانات

قسم الرياضيات

معلمة المادة : هديل عباينة

اليوم والتاريخ :

• الهدف : يتعرف العلاقة ويحدد المجال والمدى ، ثم يحدد إذا كانت العلاقة إقران أم لا .

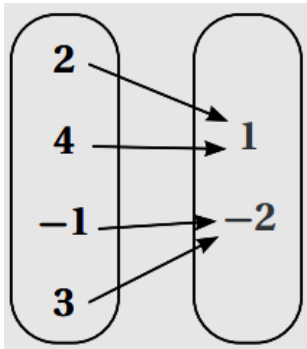
أحدّد المجالَ والمدى لكلّ علاقةٍ ممّا يأتي، ثمّ أحدّد ما إذا كانت تمثّل إقراناً أم لا:

1)  $\{(13, 5), (-4, 12), (6, 0), (13, 10)\}$

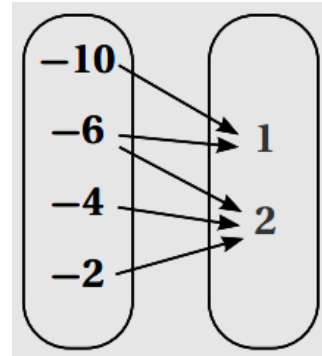
2)

$x$	-3	-1	0	1	2
$y$	3	-4	5	-2	3

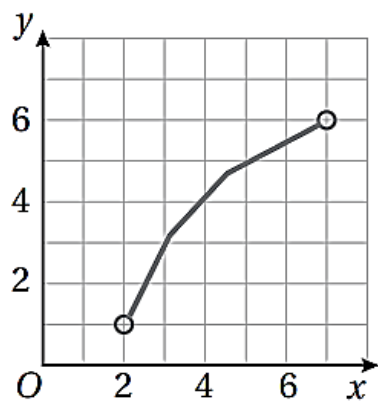
3)



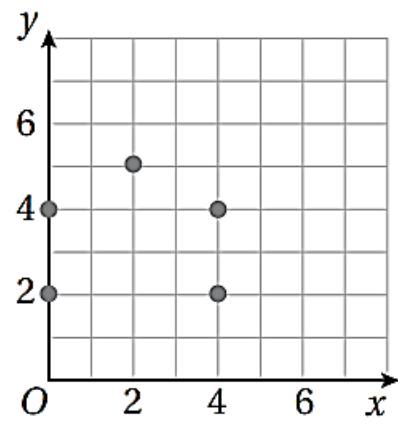
4)



5)



6)



7)

