



الاسم:		المادة:	الرياضيات
الصف:	الثاني الأساسي	التاريخ:	2025 / ..... / .....

الهدف : يُعدُّ واحداتٍ والعَشَراتِ والمِئاتِ تنازليًا وتَصاعديًا.

السؤال الاول : أَعِدُّ تَصاعُديًا حَسَبِ المَطْلُوبِ:

( بالواحداتِ ) ..... , ..... , ..... , ..... , ..... , 566 , 565

( بالعَشَراتِ ) ..... , ..... , ..... , ..... , ..... , 921 , 911

( بالمِئاتِ ) ..... , ..... , ..... , ..... , ..... , 420 , 320

السؤال الثاني : أَعِدُّ تنازليًا حَسَبِ المَطْلُوبِ:

( بالواحداتِ ) ..... , ..... , ..... , ..... , ..... , 345 , 346

( بالعَشَراتِ ) ..... , ..... , ..... , ..... , ..... , 588 , 598

( بالمِئاتِ ) ..... , ..... , ..... , ..... , ..... , 822 , 922

السؤال الثالث : أَكْتُبُ العَدَدِ المَفْقُودَ :

165		167				171
-----	--	-----	--	--	--	-----

746			749		751	
-----	--	--	-----	--	-----	--

333		353				393
-----	--	-----	--	--	--	-----

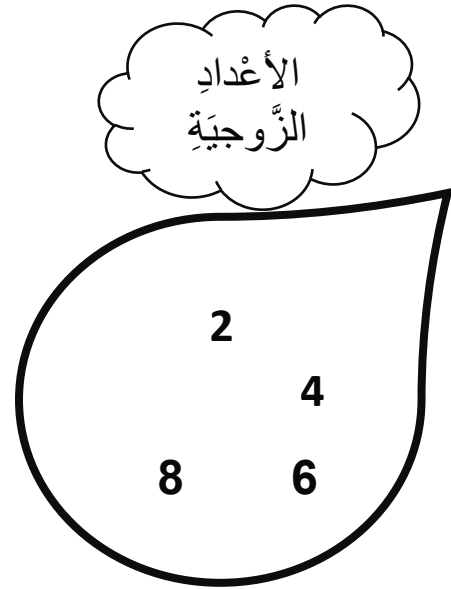

المعلمة : جستين عيزر



الاسم:		المادة:	الرياضيات
الصف:	الثاني الأساسي	التاريخ:	2025 / ..... / .....

### الهدف :يُمَيِّزُ الأَعْدَادِ الزَّوْجِيَّةِ والأَعْدَادِ الْفَرْدِيَّةِ.

عِنْدَ تَحْدِيدِ الْعَدَدِ الزَّوْجِي وَالْعَدَدِ الْفَرْدِيِّ أَنْظُرْ إِلَى مَنْزِلَةِ الْآحَادِ وَأَحْدِدَ حَسَبِ الرَّقْمِ .



السؤال الأول : لَوِّنِ الْعَدَدِ الْفَرْدِي بِاللَّوْنِ الْأَصْفَرِ وَالْعَدَدِ الزَّوْجِيَّ بِاللَّوْنِ الْأَخْضَرِ:

342

159

633

923

558

104

880

934

621

627

السؤال الثاني : أكتب ثلاثة أعداد زوجية أكبر من 50

السؤال الثالث : أكتب ثلاثة أعداد فردية أقل من 74

السؤال الثالث : أكتب الأعداد الفردية التي تقع بين 128 و 145 :

السؤال الرابع : أضع دائرة حول العدد الزوجي :

174      741      936      659      178

250      496      671      493      462

السؤال الرابع : أضع دائرة حول العدد الفردي :

660      945      183      198

366      729      547      251

المعلمة : جستين عيزر

احبكم



الاسم:		المادة:	الرياضيات
الصف:	الثاني الأساسي	التاريخ:	2025 / ..... / .....

الهدف : يكتُب العدد السَّابِقَ والعدد التَّالِيَّ والعدد المَحْصُورَ بينَ عددين .

السؤال الأول : اكتب العدد السَّابِقَ والعدد التَّالِيَّ في الفراغ :

العدد التالي	العدد	العدد السابق
	564	
	987	
	213	
	119	
	753	
	430	

السؤال الأول : اكتب العدد الواقع بين العددين في الفراغ:

478 ,  , 488

596 ,  , 598

342 ,  , 482

370 ,  , 390



المعلمة : جستين عيزر





الاسم:		المادة:	الرياضيات
الصف:	الثاني الأساسي	التاريخ:	2025 / ..... / .....

الهدف: يُقارَنُ الأَعْدَادُ ضِمْنَ ثَلَاثَةِ مَنَازِلَ مُسْتَعْمِلًا الرُّمُوزَ < / > / = .

السؤال الأول: أَكْتُبْ ( < / > / = ) لِتَصْبِحَ الْعِبَارَةُ صَحِيحَةً :

754  956

814  614

ثلاث مئة  354

227  مئتان وأربع وعشرون

542  456

982  986

694  ستمئة وتسعون

275  145

185  345



السؤال الثاني : أكتب عددًا من ثلاثة منازل لأجعل المقارنة صحيحة :

$514 < \boxed{\phantom{000}}$

$711 < \boxed{\phantom{000}}$

$\boxed{\phantom{000}} > 365$

$\boxed{\phantom{000}} = 634$

$597 > \boxed{\phantom{000}}$

$\boxed{\phantom{000}} < 630$

$917 > \boxed{\phantom{000}}$

$588 = \boxed{\phantom{000}}$

المعلمة : جستين عيزر

احبكم



الاسم:		المادة:	الرياضيات
الصف:	الثاني الأساسي	التاريخ:	2025 / ..... / .....

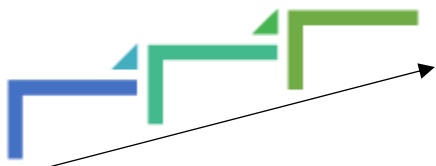
الْهَدَفُ : يُرَتَّبُ الْأَعْدَادُ ضِمْنَ ثَلَاثَةِ مَنَازِلَ تَصَاعُدِيًّا وَتَنَازُلِيًّا .



السُّؤَالُ الْأَوَّلُ : رَتِّبِ الْأَعْدَادِ الْآتِيَةَ تَصَاعُدِيًّا :

689 - 682 - 694

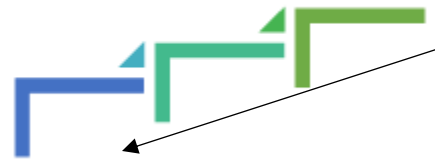
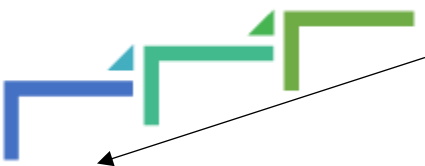
624 - 356 - 426



السُّؤَالُ الْأَوَّلُ : رَتِّبِ الْأَعْدَادِ الْآتِيَةَ نَازِلِيًّا :

711 - 709 - 721

263 - 214 - 342



السؤال الثاني : رتّب الأعداد الآتية تصاعديًا :

654	142	378
-----	-----	-----



أبدأ من هنا

--	--	--



562	517	536
-----	-----	-----



--	--	--

السؤال الثالث : رتّب الأعداد الآتية تنازليًا :

123	756	413
-----	-----	-----



أبدأ من هنا

--	--	--



985	904	963
-----	-----	-----



--	--	--

المعلمة : جستن عيزر

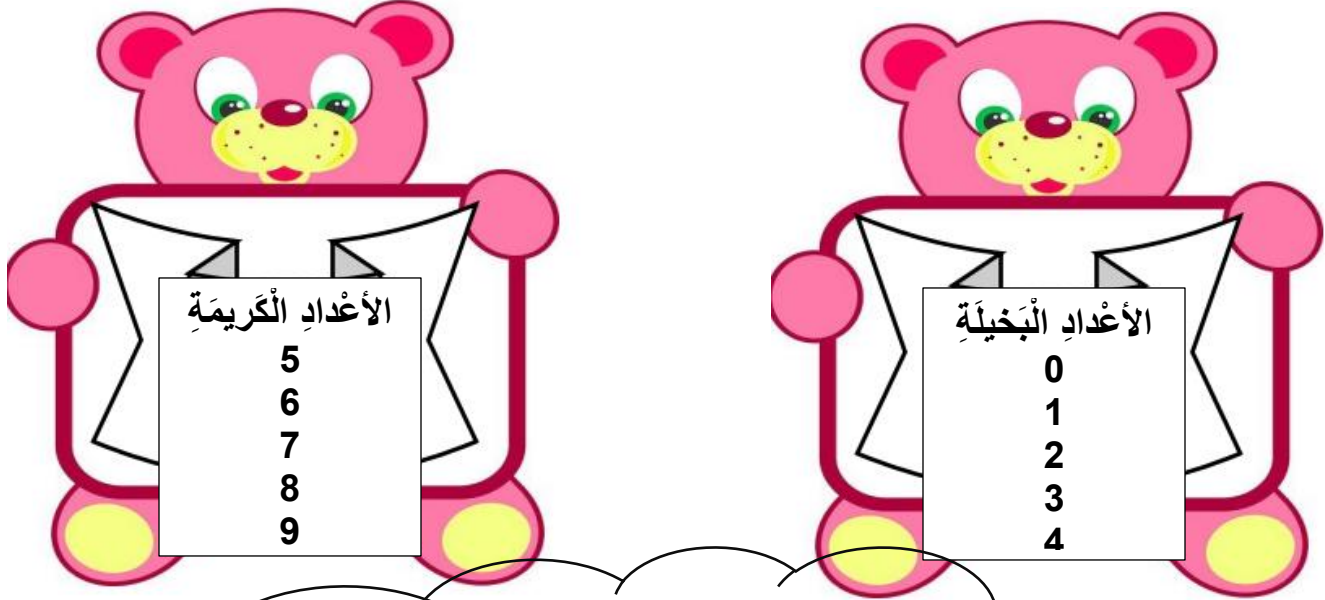
احبكم





الاسم:		المادة:	الرياضيات
الصف:	الثاني الأساسي	التاريخ:	2025 / ..... / .....

الهدف : يُقَرَّب الأَعْدَادِ الى أَقْرَبِ 10 و 100 .

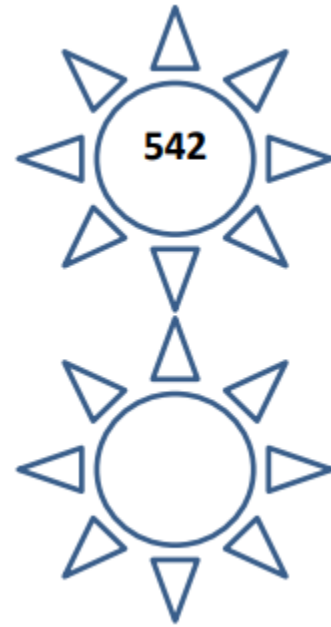
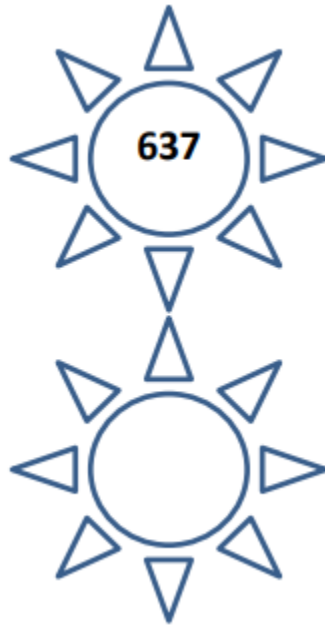
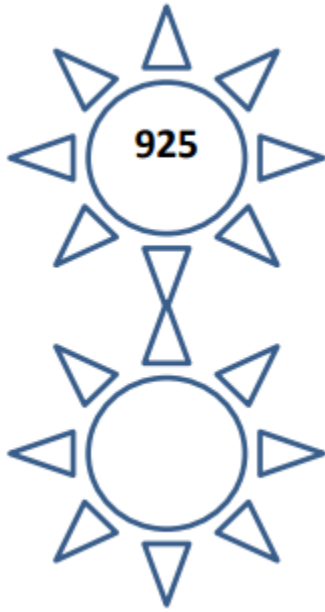


انتَبِهْ  
عِنْدَ التَّقْرِيبِ الى أَقْرَبِ 10 أَنْظِرْ الى  
مَنْزِلَةِ الْآحَادِ  
وَعِنْدَ التَّقْرِيبِ الى أَقْرَبِ 100 أَنْظِرْ الى  
مَنْزِلَةِ الْعَشْرَاتِ

السُّؤال الأول : أَقْرَبُ الأَعْدَادِ الْآتِيَةِ الى أَقْرَبِ 10 :

لأَقْرَبِ 100	لأَقْرَبِ 10	الْعَدَدُ
		956
		321
		278

السؤال الأول : اقرب الأعداد الآتية الى أقرب 10 :



السؤال الثاني : اقرب الأعداد الآتية الى أقرب 100 :

