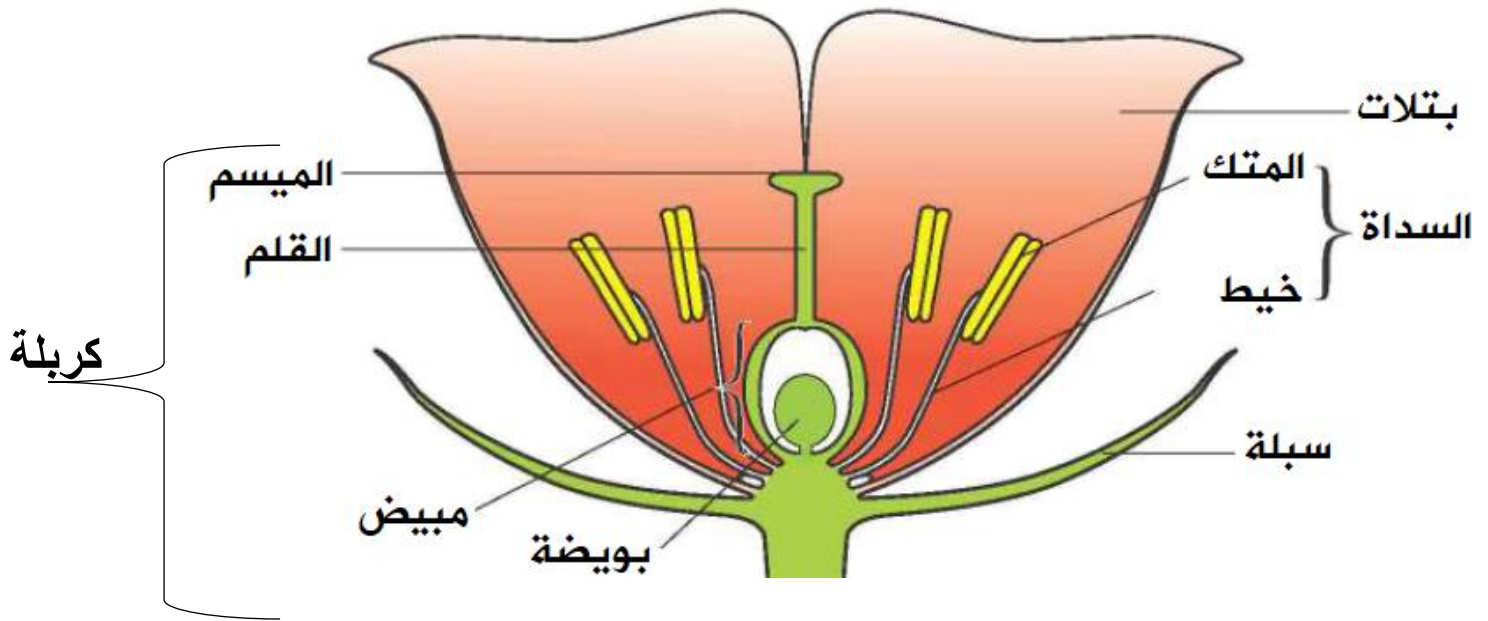


ورقة عمل رقم (6) / تركيب الزهرة

الاسم:	المادة:	العلوم
الصف:	الرابع : (أ ب ج د)	التاريخ: 2025 / 10 /

الهدف : 1 - ان يتعرف اجزاء الزهرة / ان يميز عضو التذكير و التانيث



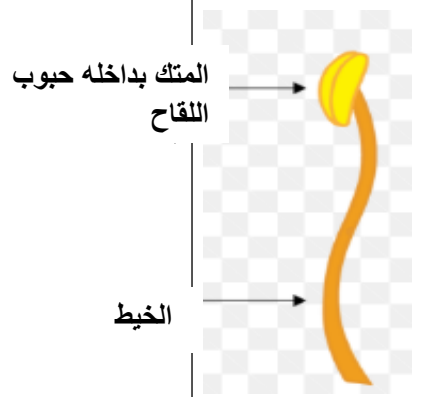
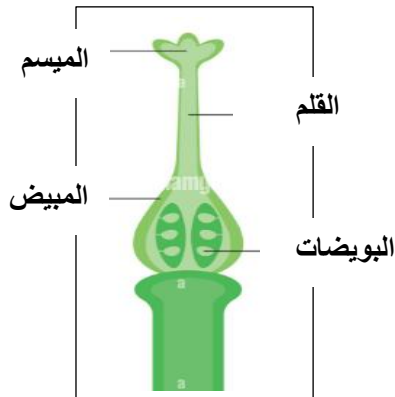
تركيب الزهرة

عضو التكاثر في النباتات الزهرية (مغطاة البذور)

سؤال : اكتب اسم الاجزاء المشار اليها ؟

عضو التانيث (الكريهة)

عضو التذكير (السدادة)



معلمة المادة : سالي المدانات