



ورقة عمل رقم ( 7 ) / حضارات بلاد الشام القديمة

الدراسات الاجتماعية

المادة:

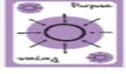
الاسم:

2025 / 10 /

التاريخ:

السابع ( أ + ب )

الصف:



الهدف من ورقة العمل : 1- التعرف لحضارات بلاد الشام القديمة 2- استخدام مسارات التفكير

بلاد الشام اسم قديم يطلق على المنطقة التي تعرف اليوم باسم : الاردن وسوريا وفلسطين ولبنان  
وتقع في قارة اسيا



خارطة بلاد الشام

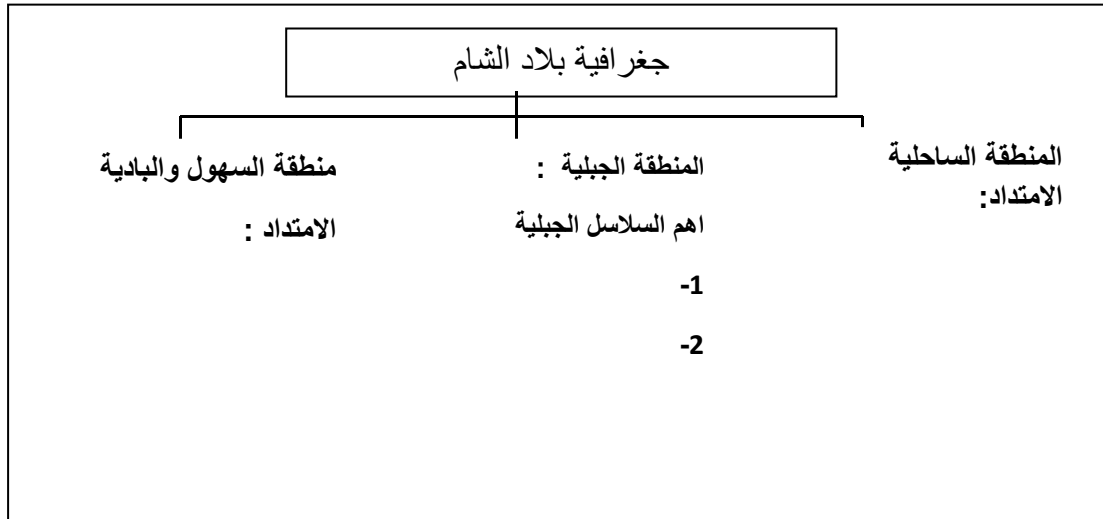
تأمل خارطة بلاد الشام ثم اجب عن السؤال التالي ؟

بين الاهمية الاستراتيجية لموقع بلاد الشام ؟

.....

تأمل صفحة الكتاب 81 ثم صف جغرافية بلاد الشام وفق اطار التصنيف

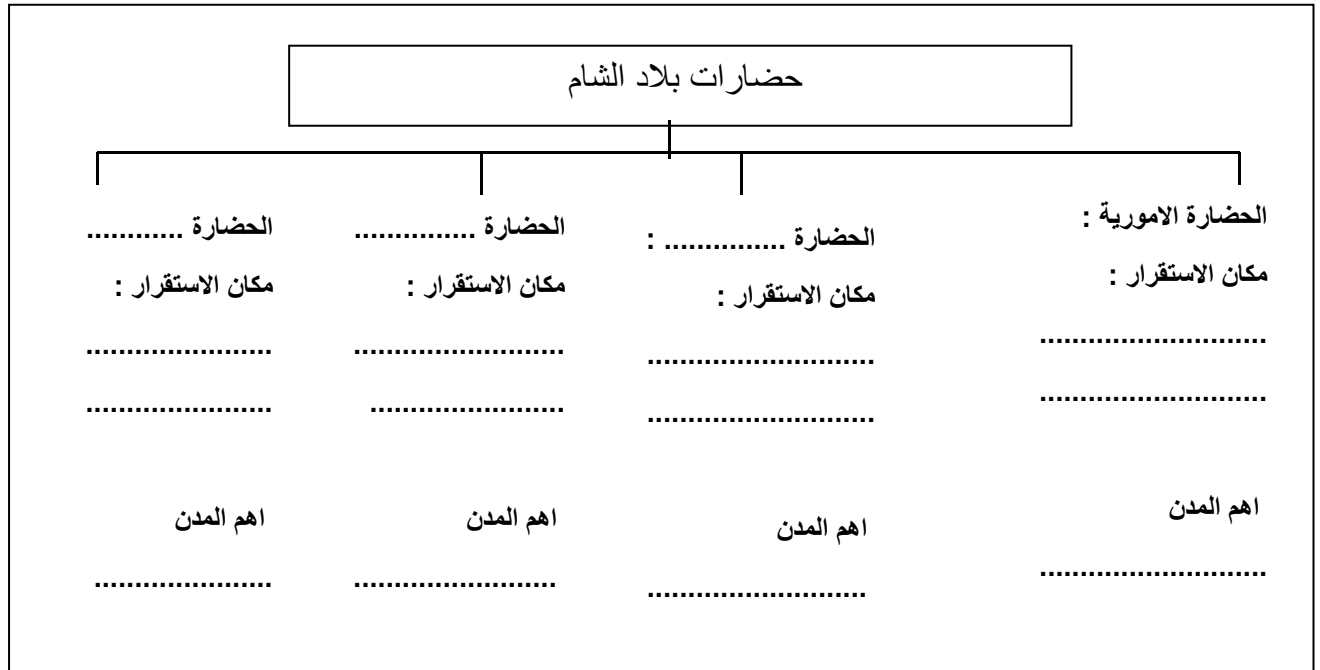
س : صف جغرافية بلاد الشام ؟



الحضارة هي النتاج الفكري والثقافي والمادي المتراكم لاي امة من الامم  
عوامل قيام الحضارة ؟ توافر المياه / خصوبة التربة / اعتدال المناخ / الموقع الجغرافي / سيادة الامن والاستقرار

تأمل صفحات الكتاب 82 – 83 ثم وضع اهم الحضارات التي نشأت في بلاد الشام وفق اطار التصنيف

س : وضع الحضارات التي نشأت في بلاد الشام ؟



" النجاح ليس للاقوياء فقط , بل لأولئك الذين يستمرون في المثابرة "



اعداد قسم الدراسات الاجتماعية

المعلمات : امنية العبادي & رولا الريان