



المادة : العلوم الحياتية (ملحق دوسية رقم 2)

الاسم :

الوحدة الأولى : كيمياء الحياة / الدرس الثاني

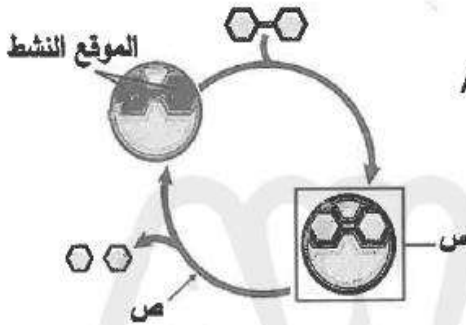
الصف : الثاني عشر - المسار الاكاديمي

معلمة المادة : هبة سوداح

الدرس الثاني : الانزيمات / اسئلة وزارية + أسئلة اضافية

علمي 2024 :

٧- الشكل الآتي يُمثّل آلية عمل إنزيم المالتيز. لإمّ يرمز (س)، وما المادة المضافة المُشار إليها بالرمز(ص)



على الترتيب؟

(ب) مُعقّد المالتيز- المالتوز، AMP

● مُعقّد المالتيز- المالتوز، الماء

(أ) المالتيز، الماء

(ج) المالتيز، AMP

٨- البروتين الذي يحويه الحليب، والإنزيم الذي يُحلّل هذا البروتين، ودرجة الحرارة المُثلى لعمل هذا الإنزيم على

الترتيب:

(ب) باباين، التريسين، 20°C

● كازين، التريسين، 40°C

(أ) باباين، البيسين، 20°C

(ج) كازين، البيسين، 40°C

٩- ماذا يُمثّل الرمز (س) في المعادلة الآتية، وما العملية التي تُمثّلها هذه المعادلة على الترتيب؟



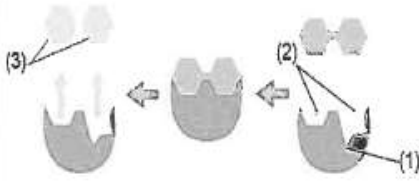
(ب) FADH، اختزال

(د) FAD⁺، تأكسد

(أ) FAD⁺، اختزال

● FAD، تأكسد

٩- يوضح الشكل الآتي إحدى الفرضيات التي تُفسر ارتباط الإنزيم بالمادة التي يُؤثر فيها، والمطلوب: ماذا تُسمى هذه



الفرضية، وإلام تُشير كل من الأرقام (1)، (2)، (3) على الترتيب؟

أ) القفل والمفتاح، (1): المواد المُتفاعلة، (2): الإنزيم، (3): الموقع النشط

ب) القفل والمفتاح، (1): الإنزيم، (2): المواد المُتفاعلة، (3): الموقع النشط

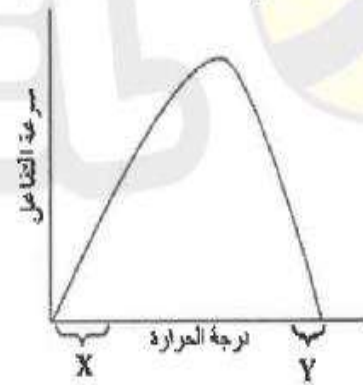
ج) التلاؤم المُستحث، (1): الموقع النشط، (2): الإنزيم، (3): المواد المُتفاعلة

د) التلاؤم المُستحث، (1): الإنزيم، (2): الموقع النشط، (3): المواد الناتجة

١٠- يُبين الشكل الآتي تأثير درجة الحرارة في سرعة تفاعل يُحفّزه إنزيم اللاكتيز، أي صفوف الجدول المجاور تصف

أجزاء الرسم البياني المُشار إليها بالرمزين: X، Y على نحو صحيح؟

الرمز	X	Y
1	الإنزيم فقد قدرته على العمل	سرعة التفاعل تقل
2	سرعة التفاعل تزداد	الإنزيم فقد قدرته على العمل
3	سرعة التفاعل تقل	سرعة التفاعل تزداد
4	سرعة التفاعل تقل	الإنزيم فقد قدرته على العمل

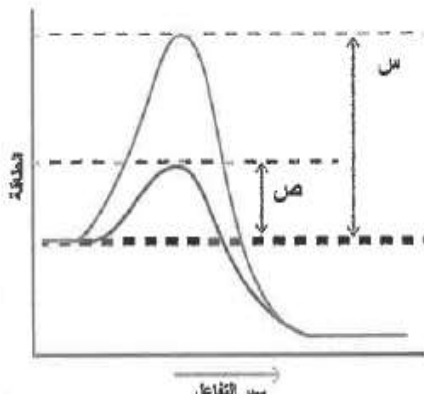


(د) (4)

(ج) (3)

(ب) (2)

(أ) (1)



١١- جميع العبارات الآتية المتعلقة بالإنزيمات وبالشكل المجاور صحيحة، ما عدا:

أ) يُشير الرمز (س) إلى طاقة التنشيط من دون وجود إنزيم

ب) تزيد الإنزيمات طاقة التنشيط التي تحتاجها التفاعلات

ج) يُشير الرمز (ص) إلى طاقة التنشيط بوجود إنزيم

د) لا تُستهلك الإنزيمات في التفاعلات الكيميائية

١٢- علاء بدأ ثبات ساعة تفاعل، يُحفّزه إنزيم؟

١٢- علام يدل ثبات سرعة تفاعل يُحفّزه إنزيم؟

(أ) زيادة تركيز الإنزيم

(ج) انخفاض طاقة التنشيط

(ب) تناقص تركيز المادة المتفاعلة

● شغل جميع المواقع النشطة في الإنزيم

علمي 2023 :

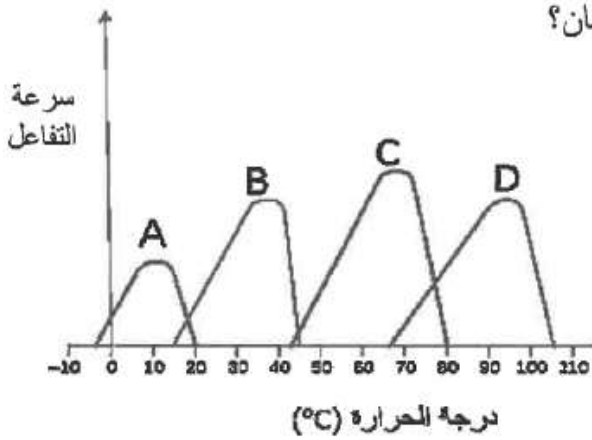
٧- ما رمز الشكل الذي يُمثل نشاط معظم الإنزيمات في جسم الإنسان؟

(A) (أ)


(B) ● (ب)

(C) (ج)

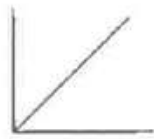
(D) (د)



٨- أي الأشكال البيانية الآتية يُمثل العلاقة الصحيحة بين تركيز المادة المتفاعلة وسرعة تفاعل يُحفّزه إنزيم، إذا علمت أن المحور السيني في كلٍّ منها يُمثل تركيز المادة المتفاعلة والمحور الصادي يُمثل سرعة التفاعل؟



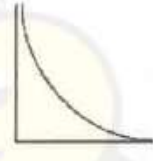
●



(ج)



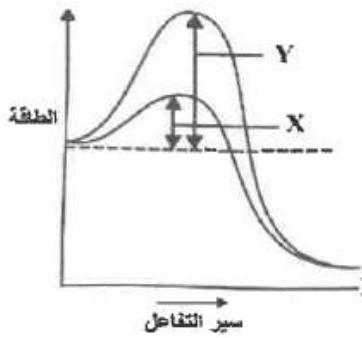
(ب)



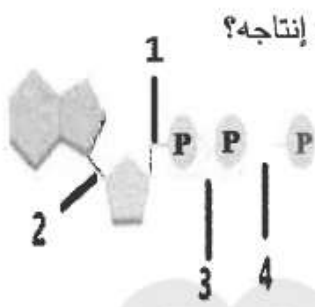
(أ)

٩- أي الآتية مُرافقات إنزيمات نتجت من عملية اختزال؟

● $NADH$ و $FADH_2$ (ب) NAD^+ و FAD (ج) NAD^+ و $NADP^+$ (د) GTP و ATP



- ٨- يرمز كل من (X) و (Y) في الشكل المجاور على الترتيب إلى:
- (أ) (X): طاقة التنشيط بعدم وجود إنزيم، (Y): طاقة التنشيط بوجود إنزيم
- (ب) (X): طاقة التنشيط بوجود إنزيم، (Y): طاقة التنشيط بعدم وجود إنزيم
- (ج) (X): الطاقة الناتجة من التفاعل، (Y): الطاقة التي يحتاجها التفاعل
- (د) (X): الطاقة التي يحتاجها التفاعل، (Y): الطاقة الناتجة من التفاعل



- ٩- الشكل المجاور يشير إلى إنتاج ADP من ATP، ما الرقم الذي يمثل تحرر الطاقة عند إنتاجه؟

- (أ) 1
- (ب) 2
- (ج) 3
- (د) 4

- ٩- إذا أضيف إنزيم التربسين إلى أنبوب يحوي حليباً، ثم سخّن الأنبوب، وضبطت درجة حرارة التسخين على درجة الحرارة المثلى لهذا الإنزيم فاختلف اللون الأبيض للحليب. أي الآتية تفسر سبب اختفاء لون الحليب؟
- (أ) زيادة تركيز بروتين الحليب كازين
- (ب) عدم ارتباط الكازين بالمواقع النشطة الخاصة بالإنزيم
- (ج) تحلل بروتين الحليب كازين
- (د) تغيير الرقم الهيدروجيني للحليب

١٠- جميع العبارات الآتية صحيحة في ما يتعلّق بالإنزيمات ما عدا:

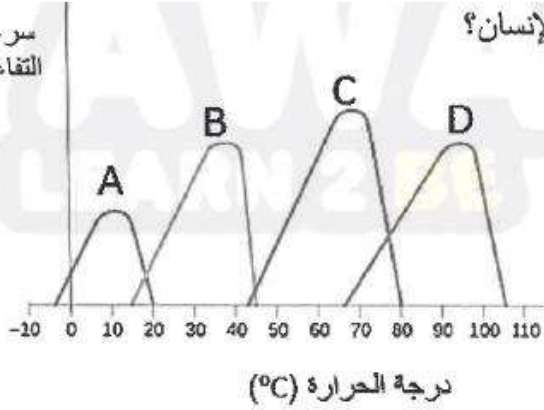
(أ) زيادة تركيز الإنزيم تزيد من عدد المواقع النشطة المتوافرة

(ب) تزيد الإنزيمات طاقة التنشيط التي تحتاجها التفاعلات

(ج) مضاعفة تركيز الإنزيم مع تثبيت العوامل الأخرى ستضاعف سرعة التفاعل

(د) معظم الإنزيمات بروتينات كروية

سرعة
التفاعل



١١- ما رمز الشكل الذي يمثل نشاط معظم الإنزيمات في جسم الإنسان؟

A (أ)
B (ب)
C (ج)
D (د)

١٢- يمثل الشكل الآتي إحدى الفرضيات التي تُفسّر ارتباط الإنزيم بالمادة التي يؤثر فيها، ما هي هذه الفرضية، وإلى

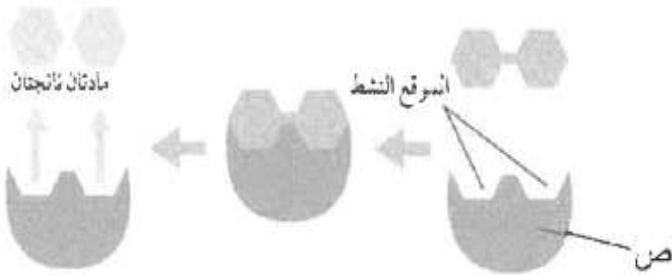
ماذا يُشير الرمز (ص) على الترتيب؟

(أ) التلاؤم المُستحث، الإنزيم

(ب) القفل والمفتاح، الإنزيم

(ج) التلاؤم المُستحث، المادة المتفاعلة

(د) القفل والمفتاح، معقد الإنزيم - المادة المتفاعلة




١٣- ماذا يمثل الشكل المجاور؟

(ب) ستيرويد

(أ) أدينوسين

(د) نيوكليوتيد

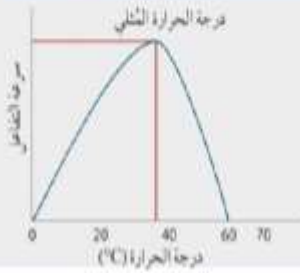
(ج) AMP



1 - أي التالية يعتبر من خصائص الانزيمات :

ب- بروتينات كروية تستهلك أثناء التفاعل
بروتينات كروية لا تستهلك أثناء التفاعل

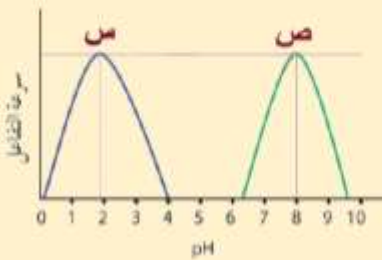
أ- بروتينات ليفية لا تستهلك أثناء التفاعل
ج- لا تعمل على درجة عالية من التخصص



2 - ادرس الشكل المجاور الذي يمثل علاقة درجة الحرارة بسرعة التفاعل ،
درجة الحرارة التي يتغير عندها الموقع النشط :

أ- 37-20 س ب- 60-37 س ج- 37-0 س د- 60-20 س

3 - ادرس الشكل المجاور الذي يمثل علاقة الرقم الهيدروجيني



بسرعة التفاعل ، الرمز الذي يشير إلى إنزيم يعمل على تحلل الكازين ،
ودرجة حرارته المثلى على الترتيب :

أ- س ، 40 ب- ص ، 40 ج- س ، 8 د- ص ،

4 - في تجربة العالم إدوارد بوخنر ، عند إضافة مستخلص الخميرة إلى السكروز يؤدي إلى إنتاج :

أ- كحول وغاز الأكسجين
ب- كحول وغاز ثاني أكسيد الكربون

ج- كحول وسكروز
د- لا شيء مما ذكر

5 - تعمل الانزيمات على تسريع التفاعلات الكيميائية عن طريق :

أ- زيادة طاقة التنشيط ب- تقليل طاقة التنشيط ج- تثبيت طاقة التنشيط د- جميع ما ذكر

6 - جميع العبارات التالية صحيحة فيما يخص الانزيمات ما عدا :

أ- لا تستهلك أثناء عملها
ب- تعمل على درجة عالية من التخصص
ج- تعمل على تحفيز التفاعلات الكيميائية

د- جميعها بروتينات كروية

7 - يعمل انزيم تصنيع الغلايكوجين على :

أ- ربط الوحدات البنائية (الغلوكوز) بتكوين روابط غلايكوسيدية وإضافة جزيئات الماء

ب- تفكيك الغلايكوجين إلى وحدات بنائية أصغر

ج- ربط الوحدات البنائية (الغلوكوز) بتكوين روابط غلايكوسيدية ونزع جزيئات الماء

د- ربط الوحدات البنائية (الغلوكوز) بتكوين روابط هيدروجينية ونزع جزيئات الماء

8 - الإنزيم الذي يعمل بصورة مثلى في الأمعاء عند الرقم الهيدروجيني 8 ، ودرجة حرارته المثلى هي :

أ- تربسين ، 37 ب- بيسين ، 40 ج- تربسين ، 40 د- بيسين ، 37

9 - يتغير شكل البروتين المكون للإنزيم :

أ- عند درجة الحرارة المثلى ب- بعد درجة الحرارة المثلى
ج- عند C 35 إلى C 40 د- عند C 37

10 - تتكون الشرائح النانوية الرقيقة من مادة :

أ- أكسيد التيتانيوم ب- إنزيم الباباين ج- هيدروكسيد التيتانيوم د- إنزيم التربسين

11 - يتكون جزيء حفظ الطاقة ATP من :

أ- أدنين + سكر رايبوزي + 2 فوسفات
ب- أدنين + سكر رايبوزي + 3 فوسفات
ج- أدنين + سكر رايبوزي منقوص الأكسجين + 3 فوسفات
د- أدنين + سكر رايبوزي + 1 فوسفات

12 - عند تحويل جزيء ATP إلى AMP ينتج :

أ- 2 فوسفات + 1 طاقة ب- 2 فوسفات
ج- 1 فوسفات + 1 طاقة د- 1 فوسفات + 2 طاقة

انتهت الأسئلة