




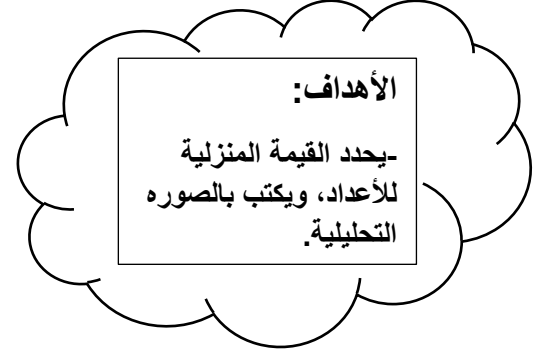
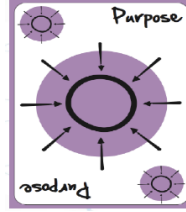
ورقة عمل رقم (9) القيمة المنزلية

المادة: رياضيات

الاسم:

التاريخ: / 10 / 2025

الصف: الأول الأساسي



أكتب الصورة التحليلية للعدد:

$$63 = \dots\dots\dots + \dots\dots\dots$$

$$58 = \dots\dots\dots + \dots\dots\dots$$

$$16 = \dots\dots\dots + \dots\dots\dots$$

$$24 = \dots\dots\dots + \dots\dots\dots$$

ما القيمة المنزلية للعدد الذي تحته خط:

$$\underline{72} \quad (70 \quad 7)$$

$$\underline{56} \quad (60 \quad 6)$$

$$\underline{91} \quad (10 \quad 1)$$

$$\underline{23} \quad (20 \quad 2)$$

$$\underline{84} \quad (80 \quad 8)$$