



ورقة عمل رياضيات - 2 -


الصّف: الخامس

الاسم: _____

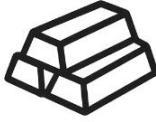
سؤال (1): ينتج مصنع الحديد 6842789 قطعة حديد في السنة الواحدة

بينما ينتج مصنع الخشب 7864302 قطعة خشب.

فبكم يزيد إنتاج مصنع الخشب عن مصنع الحديد؟



6842789



7864302



سؤال (2): إذا كانت حمولة السفينة الأولى 2597431 طن من البضائع وحمولة السفينة الثانية 6325187.

جد حمولة السفينتين معًا.

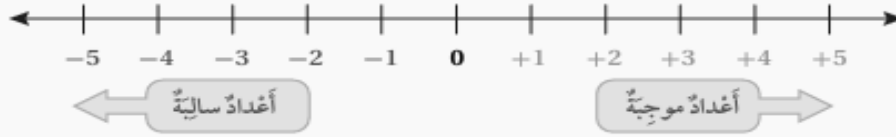
سؤال (3): ضع العدد المناسب في لتصبح العملية صحيحة:

$$\begin{array}{r} 6 \ 9 \ 3 \ 8 \ \square \ 7 \ 9 \\ - \ 3 \ \square \ 6 \ 5 \ 4 \ 7 \ 8 \\ \hline 3 \ 7 \ \square \ 2 \ 7 \ 0 \ \square \end{array}$$

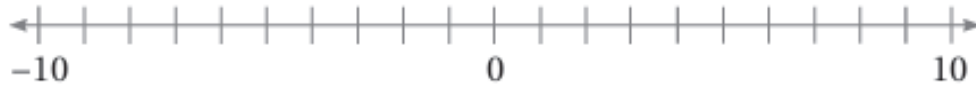
$$\begin{array}{r} 3 \ 4 \ 2 \ 1 \ 6 \ 6 \ 4 \\ + \ 1 \ \square \ 9 \ 7 \ \square \ 3 \ 2 \\ \hline 5 \ 3 \ 1 \ 9 \ 2 \ 9 \ \square \end{array}$$

يتبع

تُسْتَعْمَلُ الأَعْدَادُ السَّالِبَةُ لِتُمَثِّلَ قِيَمَ أَقَلِّ مِنَ الصَّفْرِ، مِثْلُ: رَقْمِ الطَّائِفِ الَّذِي يَقَعُ تَحْتَ الْأَرْضِ، وَيُكْتَبُ الْعَدَدُ السَّالِبُ (negative number) بِوَضْعِ الْإِشَارَةِ (-)؛ لِتَدُلَّ عَلَى أَنَّ قِيَمَةَ الْعَدَدِ أَقَلُّ مِنَ الصَّفْرِ، وَيُسْتَعْمَلُ خَطُّ الأَعْدَادِ لِتُمَثِّلَ مَوَاقِعَ الأَعْدَادِ السَّالِبَةِ إِلَى يَسَارِ الْعَدَدِ 0.



سؤال (4): عَيِّنِ الأَعْدَادَ الْآتِيَةَ (9، -4، 3، 5، -6، -1) عَلَى خَطِّ الأَعْدَادِ:



سؤال (5): أَكْمِلِ الْجَدُولَ الْآتِي بِمَا يَنَاسِبُهُ:

الموقف	العدد الذي يمثّل الموقف	ماذا يمثّل الصّفر في الموقف
سحب (20) دينار من الرصيد		
موقع الأخطبوط (7m) تحت سطح البحر		
تقدّم للأمام (4) خطوات من المكان الأصلي		

سؤال (6): اشترى عامر دفتران عربي مقابل دفتر انجليزي، إذا كان مجموع الدفاتر التي اشتراها 18 دفتر كم دفتر عربي اشترى؟ (الحل: انشئ جدول)

عدد دفاتر العربي						
عدد دفاتر الانجليزي						

معلمة المادة: ريم عازر

Good luck 😊